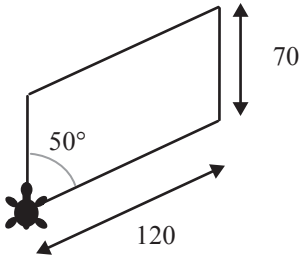





Quadrilatères (activité n°3)

NOM:

Prénom :

En utilisant la procédure "parallélogramme", réalise les figures suivantes.

<u>Parallélogramme</u>	<u>Rectangle</u>	<u>Losange</u>	<u>Carré</u>
			
<p><u>Programme LOGO :</u></p> <p>.....</p>	<p><u>Programme LOGO :</u></p> <p>.....</p> <p>.....</p> <p>(donne deux exemples)</p>	<p><u>Programme LOGO :</u></p> <p>.....</p> <p>.....</p> <p>(donne deux exemples)</p>	<p><u>Programme LOGO :</u></p> <p>.....</p> <p>.....</p> <p>(donne deux exemples)</p>

Que faut-il faire pour obtenir un rectangle à partir d'un parallélogramme?

.....

.....

Que faut-il faire pour obtenir un losange à partir d'un parallélogramme?

.....

.....

Que faut-il faire pour obtenir un carré à partir d'un parallélogramme?

.....

.....