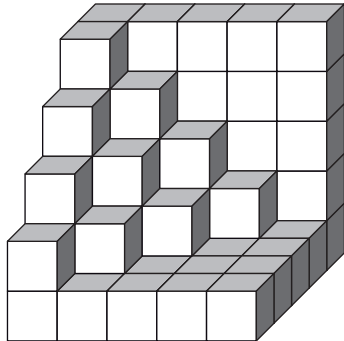


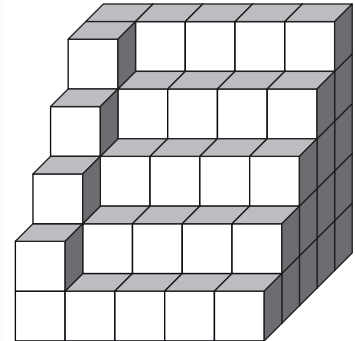
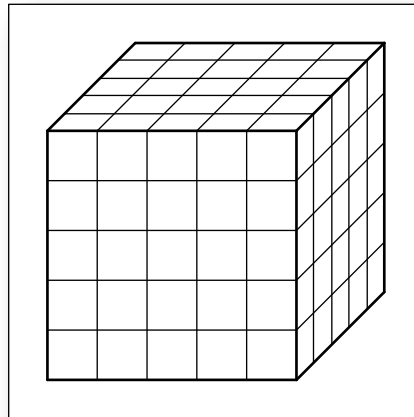
Combien de petits cubes ? /2

4

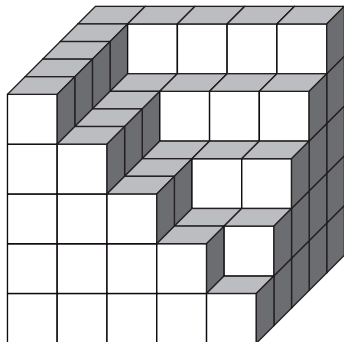
Combien de petits cubes a-t-on retiré du gros cube qui avait été réalisé initialement ?



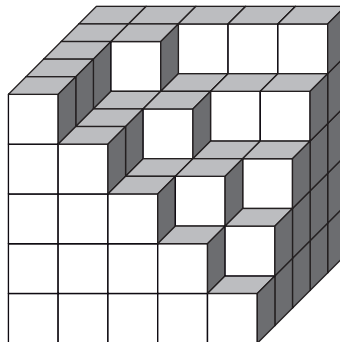
A



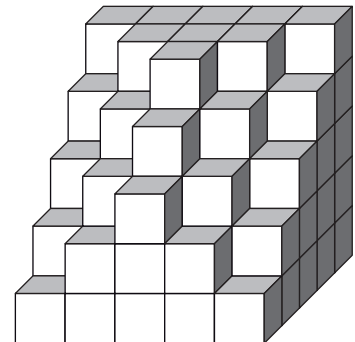
B



C




D



E

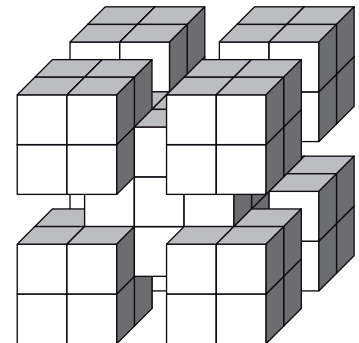
5

Le ruban cadeau qui entourait le gros cube était adhésif !



Tous les petits cubes qui étaient en contact avec lui sont restés collés lorsque je l'ai enlevé !

Combien y a-t-il de petits cubes dans la structure cubique restante ?



Réponds à chacune des questions.