


Combien de petits cubes ? /1

1

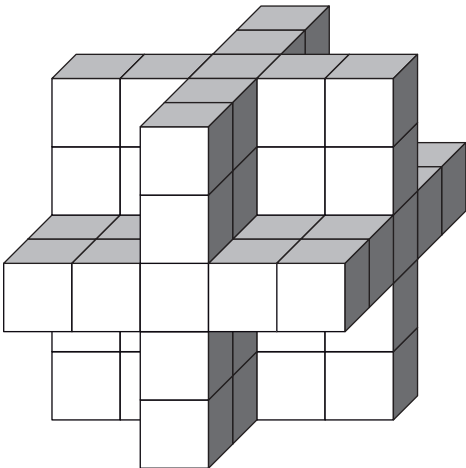
Combien de petits cubes faut-il pour construire (en les collant) cette structure cubique ?



2

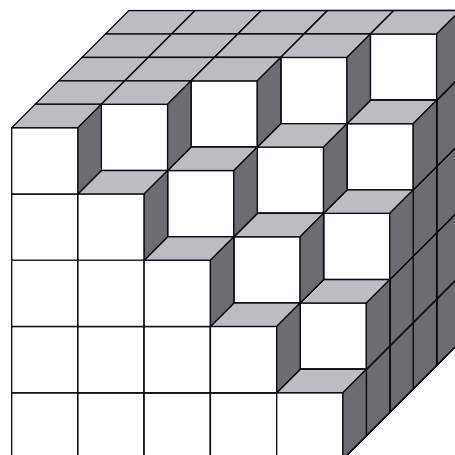
Combien de petits cubes faut-il pour construire cet objet ?

Nota : Quelle que soit la façon dont on pose cet objet sur une table, on le voit toujours ainsi.



3

Combien de petits cubes a-t-on retiré du gros cube qui avait été réalisé initialement ?



Réponds à chacune des questions.