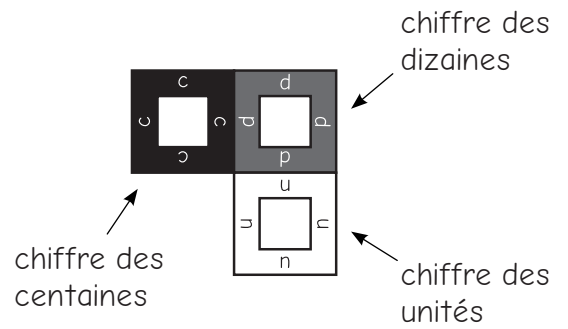



Le chasse-nombre (CE1-CE2)

Découpe le chasse-nombre A donné en annexe, en évitant l'intérieur des fenêtres.


En plaçant le chasse-nombre sur une grille, on attrape un nombre de trois chiffres : le chiffre des centaines apparaît dans le cadre noir, le chiffre des dizaines dans le cadre gris, le chiffre des unités dans le cadre blanc.



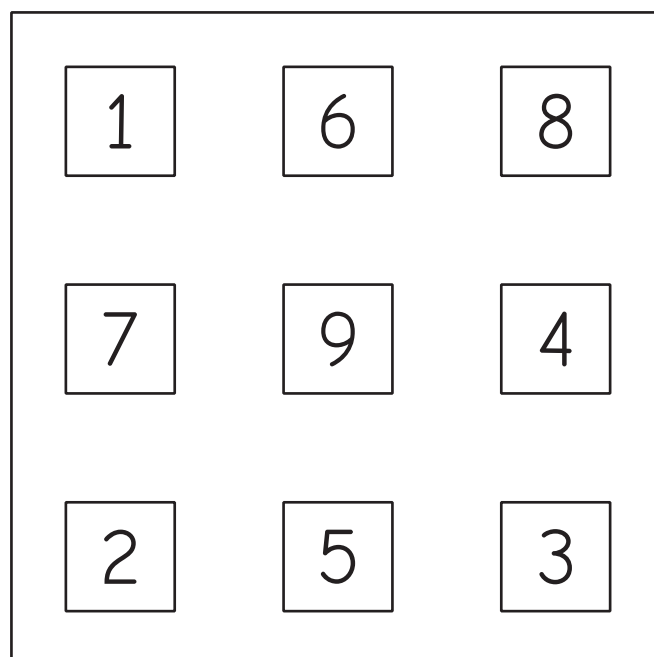
Par exemple, voici comment on peut attraper le nombre 184 sur la grille ci-dessous :



On peut tourner le chasse-nombre dans tout les sens, mais pas le poser à l'envers. Voici comment on attrape le nombre 832 :



Quel est le plus grand nombre que l'on peut attraper avec le chasse-nombre A sur la grille ci-dessous ?



Le chasse-nombre - suite (CE1-CE2)

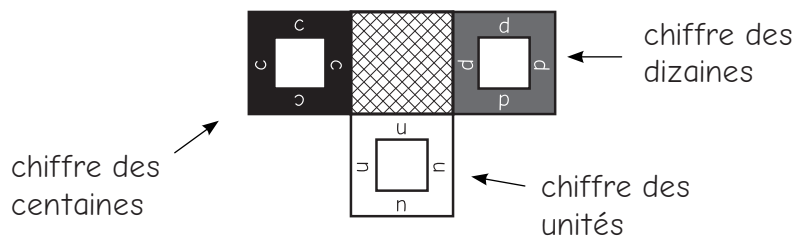


Même question dans la grille ci-dessous. Attention, les cases hachurées sont interdites : aucune partie du chasse-nombre ne doit recouvrir une case hachurée.

6	9		5	
	5	7	6	
4	0	2	3	4
5	7	6	7	5
0		1		8



Découpe le chasse nombre B donné en annexe, en évitant l'intérieur des cadres. Ici aussi, le cadre noir donne le chiffre des centaines, le cadre gris celui des dizaines et le cadre blanc celui des unités.

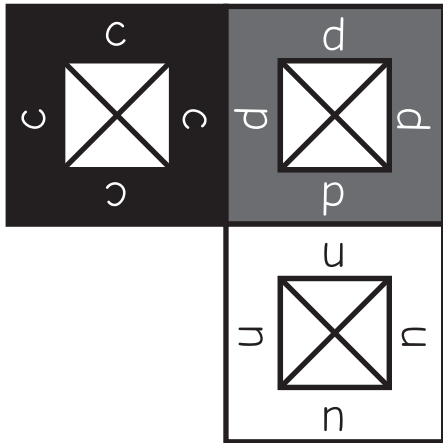


Dans la même grille que ci-dessus, quel est le plus grand nombre que l'on peut attraper avec le chasse-nombre B ? Attention, ici encore aucune partie du chasse-nombre ne doit recouvrir une case hachurée.

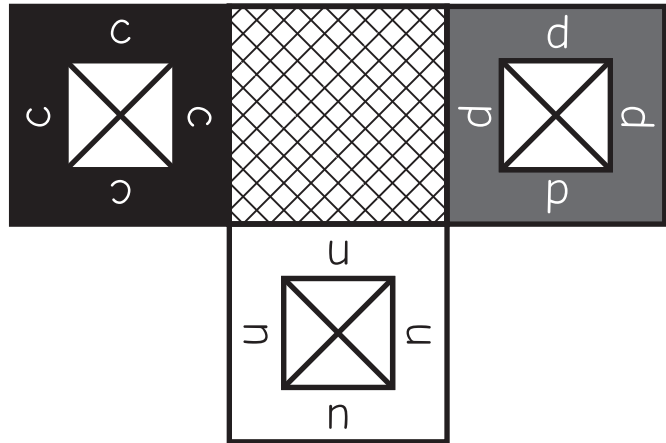
LE MATÉRIEL

Il faut découper les figures intitulées "chasse-nombre A" et "chasse-nombre B".

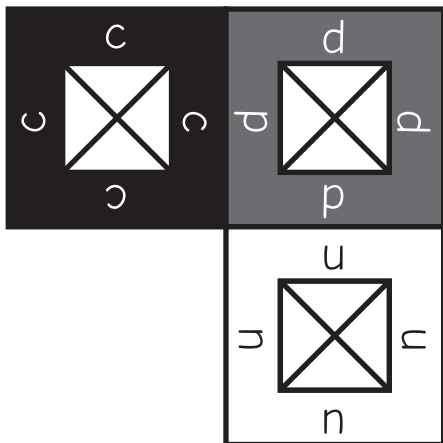
Il faut ensuite évider les parties centrales de chacun des cadres (matérialisées par les croix) avec un cutter. Il y a trois exemplaires de chaque chasse-nombre.



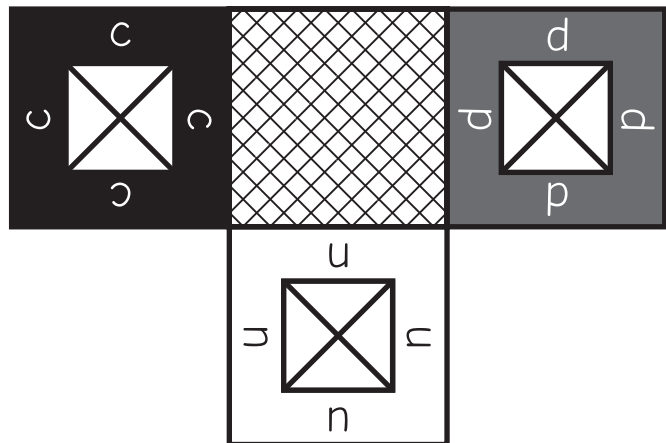
chasse-nombre A



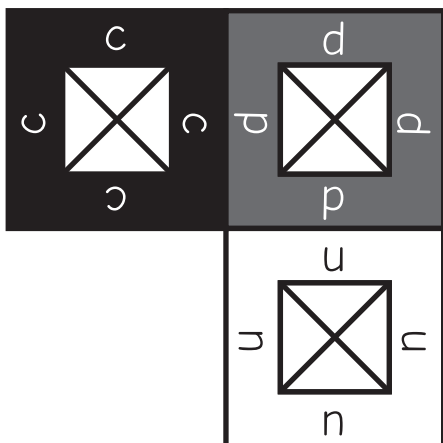
chasse-nombre B



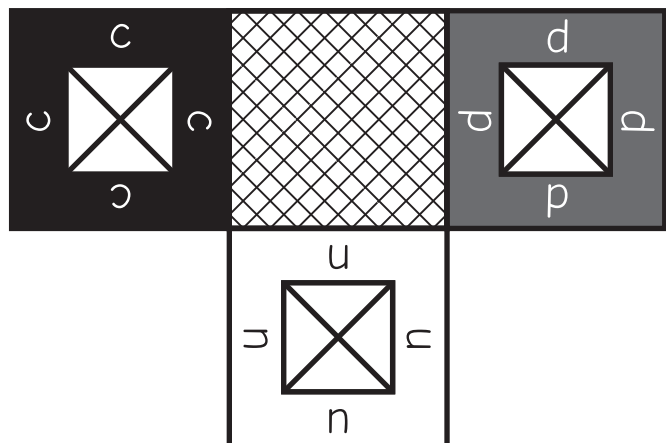
chasse-nombre A



chasse-nombre B



chasse-nombre A



chasse-nombre B