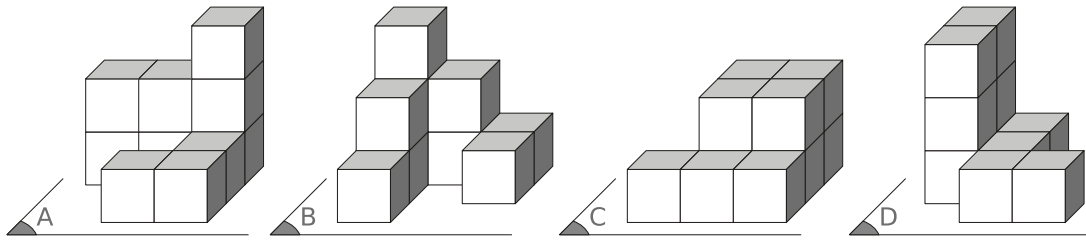


Empilements



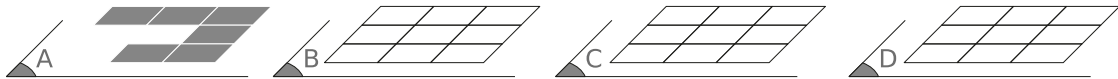
Parmi les empilements ci-dessous, un seul n'est pas composé de dix petits cubes.



Saurez-vous le trouver ?



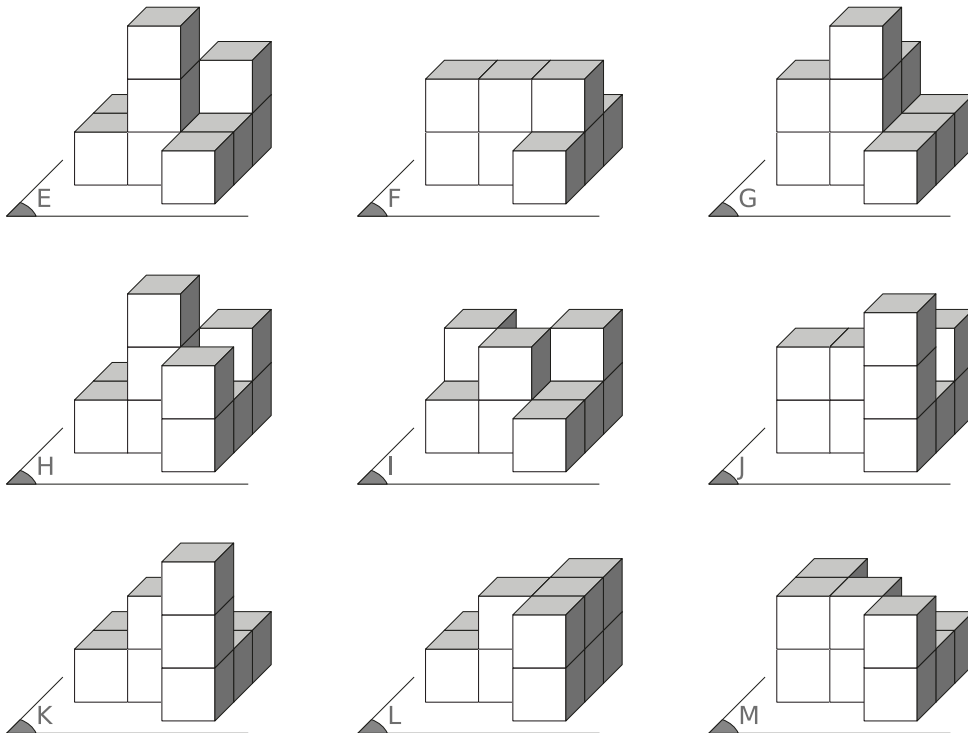
Chacun des empilements précédents est posé sur le sol fraîchement repeint. Ils laissent sur ce sol une empreinte.



Dessinez les empreintes manquantes.



Les empilements ci-dessous sont tous composés de dix petits cubes et sont posés sur un sol fraîchement repeint. Ils laissent sur ce sol une empreinte.



Quels sont ceux qui laissent l'empreinte suivante ?

