


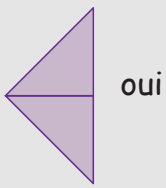
## Métrie

Avec sept triangles rectangles isocèles identiques :

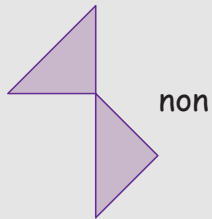
- construire un polygone ayant le plus grand périmètre possible.
- Construire un autre polygone ayant le plus petit périmètre possible.



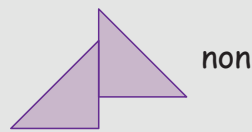
Attention, la figure obtenue doit être d'un seul tenant. Pour être assemblés, deux triangles doivent avoir deux sommets en commun.



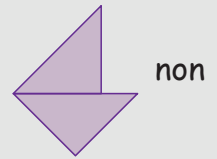
oui



non



non



non

