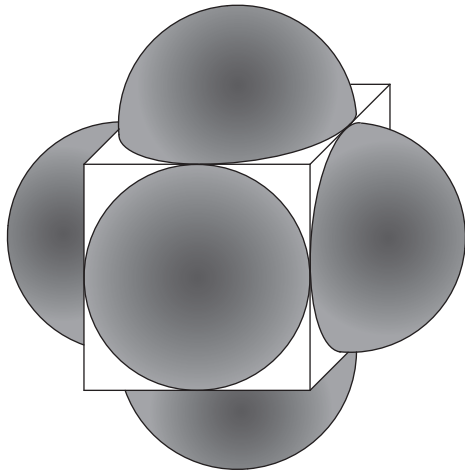
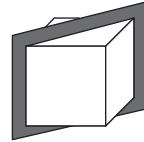
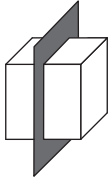



Section de solide /2



Tu peux te servir de la face du cube tracée en vraie grandeur



Trace les différentes sections du solide en vraie grandeur.
Quel est le segment situé à l'intérieur de ce solide qui a la plus grande longueur ?
(Le solide est composé d'un cube et de six demi-sphères.)