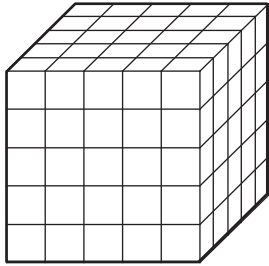


Elimination

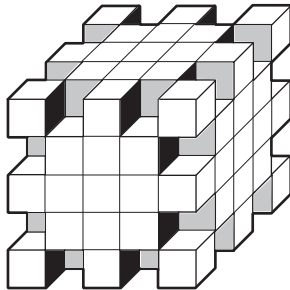


Voici un gros cube formé de (5x5x5) petits cubes.




Le maître a dit :
" Sur chacune des arêtes du gros cube, enlevez un petit cube sur deux"

Nicolas a obtenu ça ...



...et Nathalie ceci.



Qui a enlevé
le plus de petits
cubes et combien ?