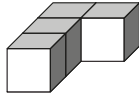


Assemblages



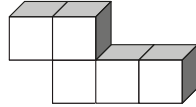
On dispose de trois sortes de pièces qui sont fabriquées avec des petits cubes.
 Construis chacune des pièces avec un jeu de cube. Indique le nombre de petits cubes que tu as utilisés.

pièce A



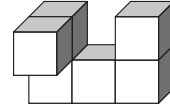
... petits cubes

pièce B



... petits cubes

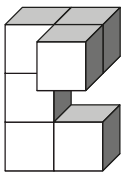
pièce C



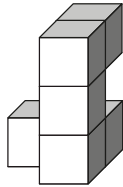
... petits cubes



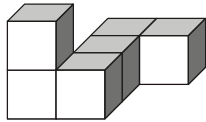
Parmi les solides ci-dessous, un seul n'est pas une pièce C. Lequel ?



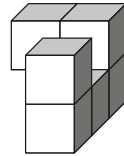
①



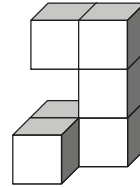
②



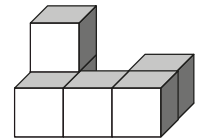
③



④



⑤

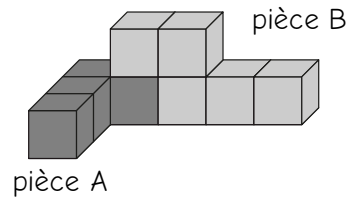
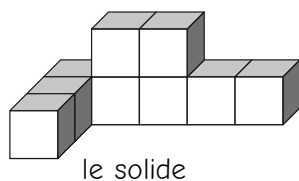


⑥

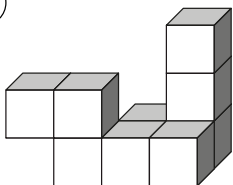


Une pièce A et une pièce B ont été assemblées pour former des solides plus grands.
 Tu dois faire apparaître la pièce A et la pièce B en utilisant deux couleurs différentes comme dans l'exemple ci-dessous :

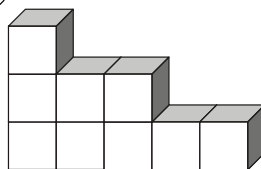
Exemple



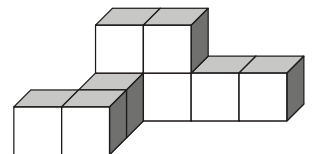
①



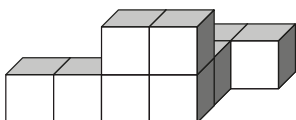
②



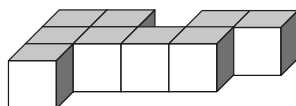
③



④



⑤



⑥

