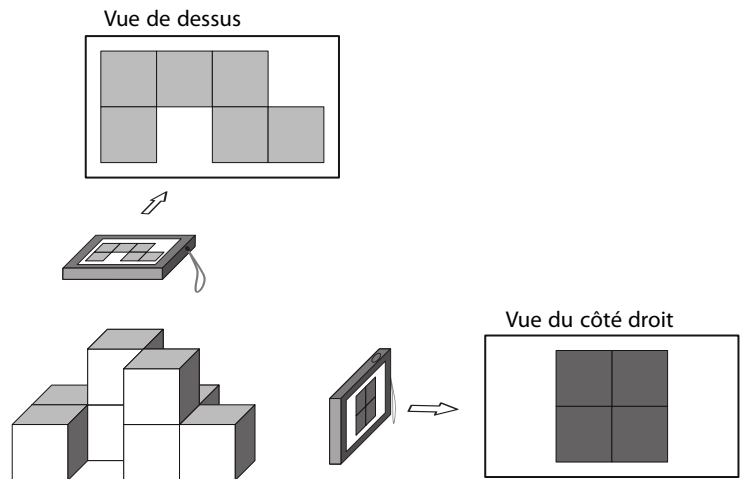


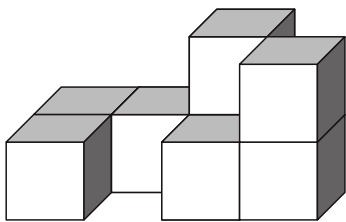
## Vues de cubes

On empile des petits cubes de manière à obtenir un assemblage. Ensuite, on le photographie en se plaçant au-dessus et sur le côté droit, comme illustré ci-contre.

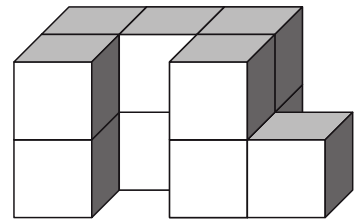


Parmi les solides ci-dessous, un seul n'a pas les mêmes vues que l'assemblage donné en exemple. Saurez-vous le retrouver ? De combien de petits cubes est-il composé ?

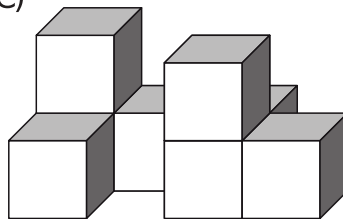
A)



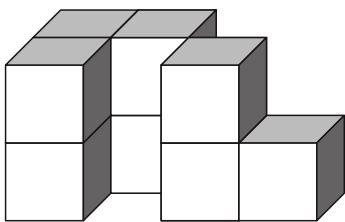
B)



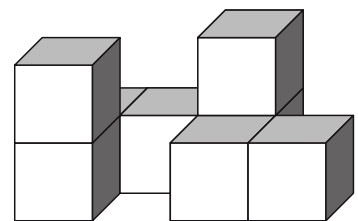
C)



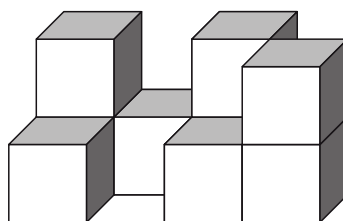
D)



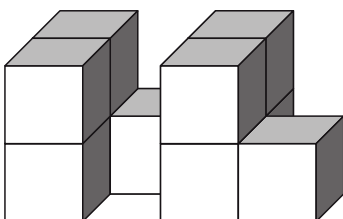
E)



F)



G)



H)

