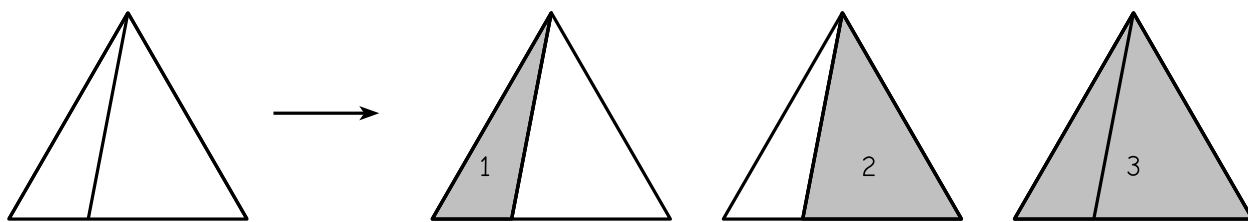


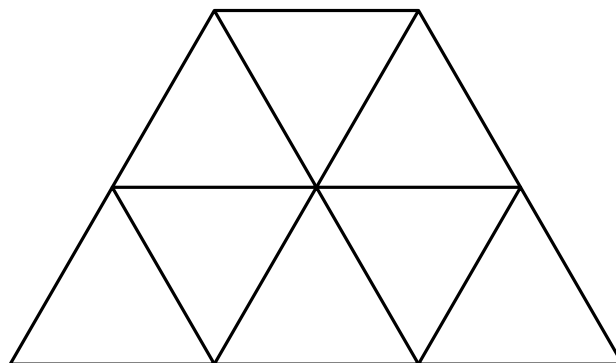
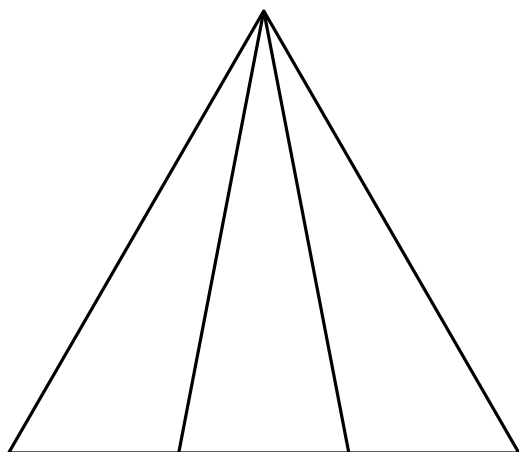
Triangles emmêlés

Dans la figure de gauche ci-dessous, on peut voir en tout 3 triangles :



Dans chacune des figures ci-dessous, **comptez le nombre de triangles** que l'on peut voir. Attention, il faut prendre soin de ne pas en oublier !

_____ ★ ★ _____ ★ ★ ★ _____



_____ ★ ★ ★ ★ _____

