

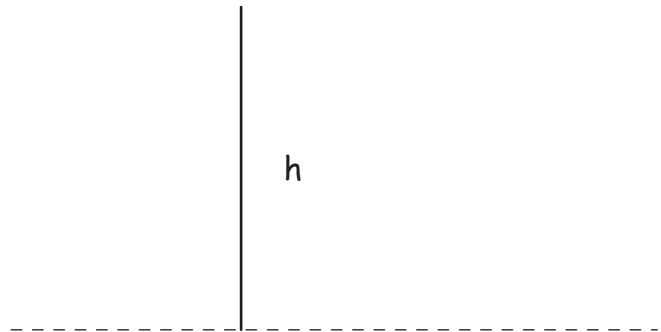


## Sections de pyramide /2

*vue de dessus*



*vue de face*



Une pyramide est sectionnée par un plan parallèle à la base. La section est représentée en couleur. En utilisant la vue de dessus et la vue de face, trace les patrons des deux morceaux de cette pyramide.