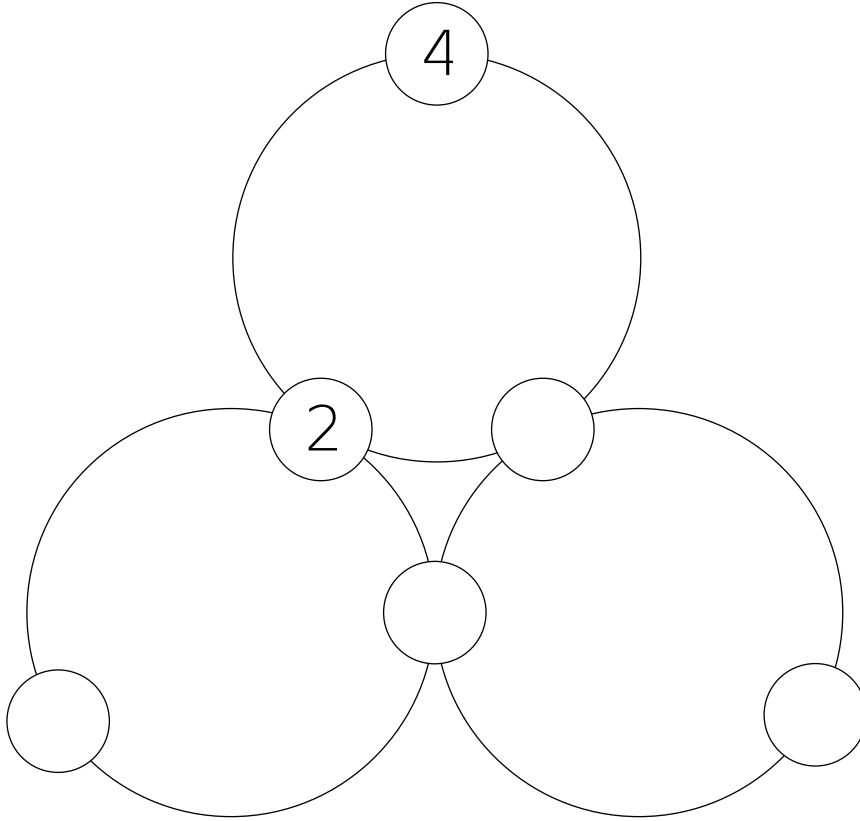


La ronde des nombres



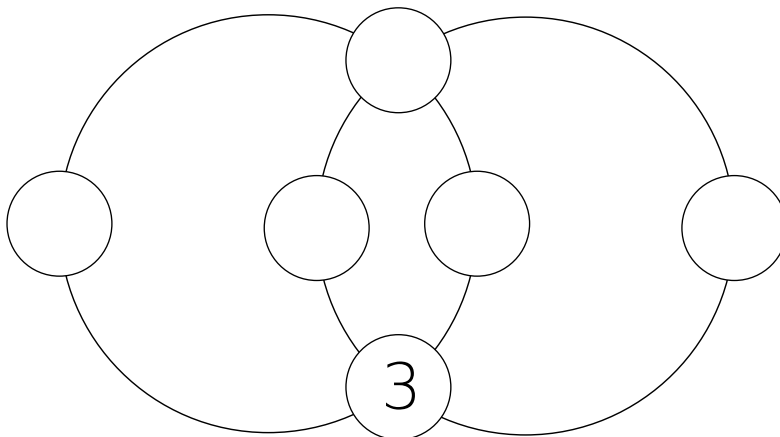
Dans la figure ci-dessous, la somme des trois nombres situés sur un même cercle donne 9.
Complète la figure avec les nombres donnés. Tu peux utiliser les gommettes mises à ta disposition, essayer et coller quand tu es sûr.e.



1 ~~2~~
3 ~~4~~
5 6



Dans la figure ci-dessous, la somme des quatre nombres situés sur un même cercle donne 14.
Complète la figure avec les nombres donnés. Tu peux utiliser les gommettes mises à ta disposition, essayer et coller quand tu es sûr.e.

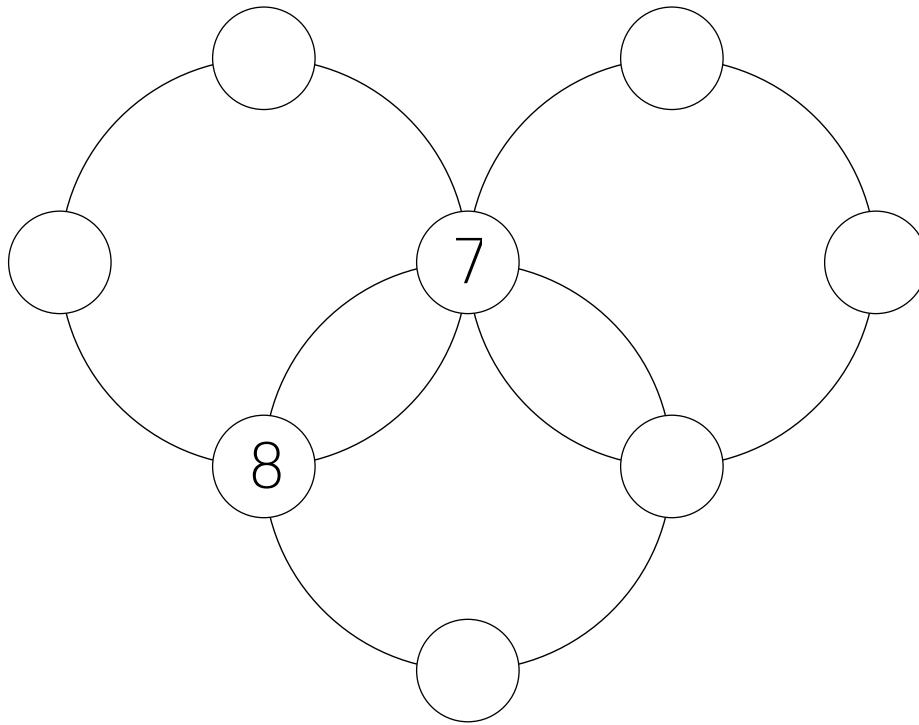


1 2
~~3~~ 4
5 6

La ronde des nombres (suite)



Dans la figure ci-dessous, la somme des quatre nombres situés sur un même cercle donne 20. Complète la figure avec les nombres donnés. Tu peux utiliser les gommettes mises à ta disposition, essayer et coller quand tu es sûr.e.



1 2
3 4
5 6
~~7~~ ~~8~~

Matériel

Il faut découper chacune des gommettes.

Elles seront ensuite utilisées pour compléter les cercles vides.

Trois gommettes de chacun des chiffres suffisent pour répondre à tous les niveaux de l'épreuve. Les 40 gommettes ci-dessous sont donc à priori largement suffisantes pour que plusieurs groupes travaillent sur cette épreuve.

1	1	2	2	3	3	4	4	5	5	6	6	7	7	8	8
1	1	2	2	3	3	4	4	5	5	6	6	7	7	8	8
1	1	2	2	3	3	4	4	5	5	6	6	7	7	8	8
1	1	2	2	3	3	4	4	5	5	6	6	7	7	8	8
1	1	2	2	3	3	4	4	5	5	6	6	7	7	8	8