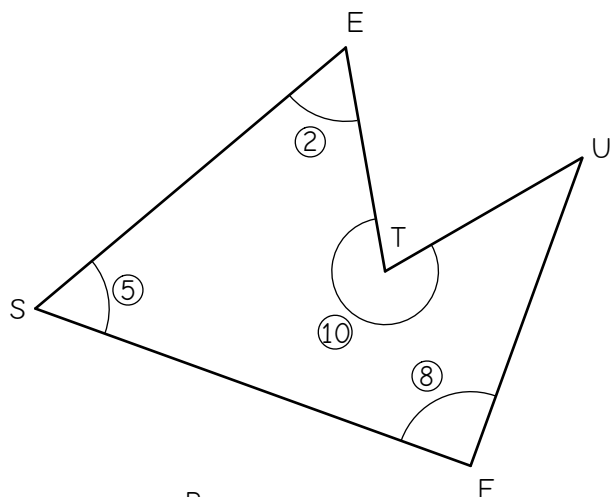


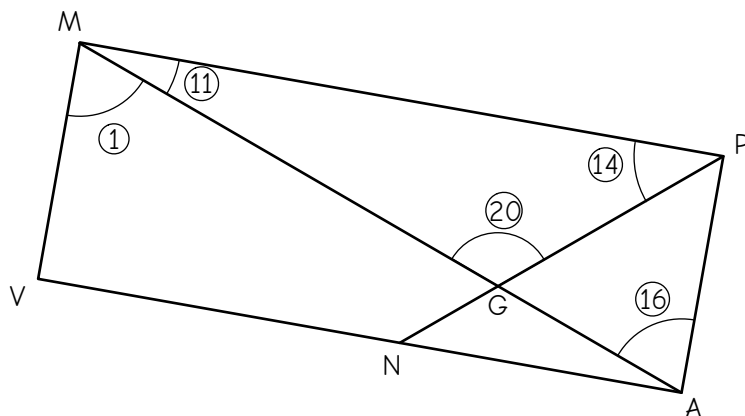
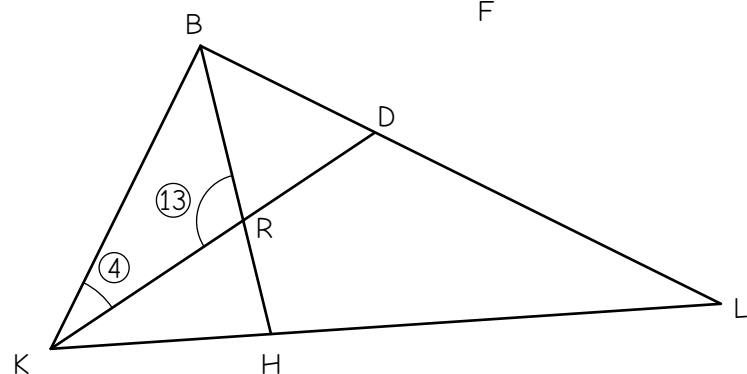
Des angles /2

Complète les figures en marquant les angles manquant et complète les tableaux



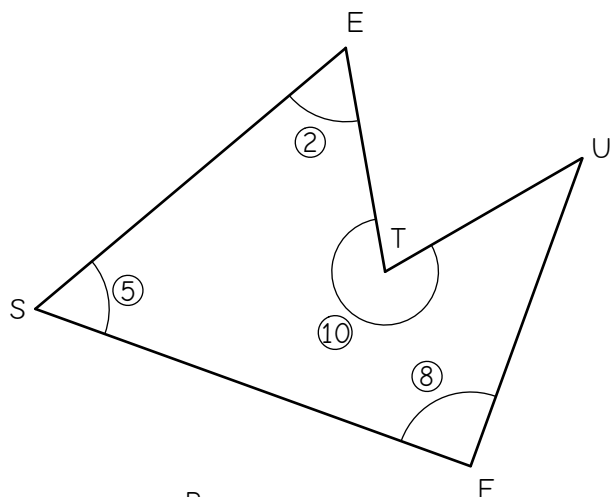
Numéro	Angle	Mesure
①	\widehat{VMG}	
②		
③	\widehat{LDK}	
④		
⑤		
⑥	\widehat{PGA}	
⑦	\widehat{DLH}	
⑧		
⑨	\widehat{KBD}	
⑩		

Numéro	Angle	Mesure
⑪		
⑫	\widehat{KBH}	
⑬		
⑭		
⑮	\widehat{TUF}	
⑯		
⑰	\widehat{NPA}	
⑱	\widehat{KRH}	
⑳	\widehat{PNV}	



Des angles /2

Complète les figures en marquant les angles manquant et complète les tableaux



Numéro	Angle	Mesure
①	\widehat{VMG}	
②		
③	\widehat{LDK}	
④		
⑤		
⑥	\widehat{PGA}	
⑦	\widehat{DLH}	
⑧		
⑨	\widehat{KBD}	
⑩		

Numéro	Angle	Mesure
⑪		
⑫	\widehat{KBH}	
⑬		
⑭		
⑮	\widehat{TUF}	
⑯		
⑰	\widehat{NPA}	
⑱	\widehat{KRH}	
⑳	\widehat{PNV}	

