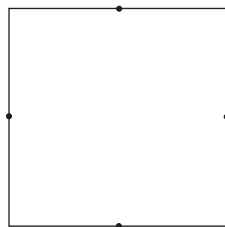
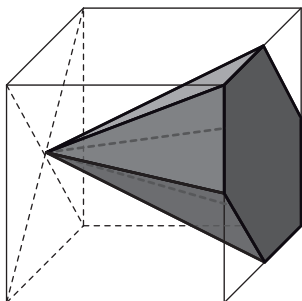
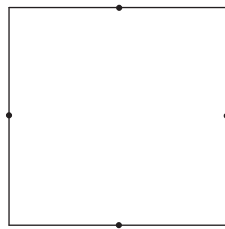
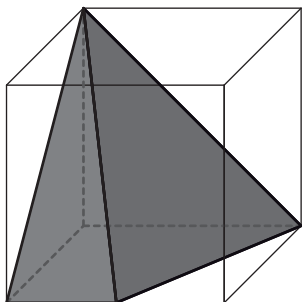
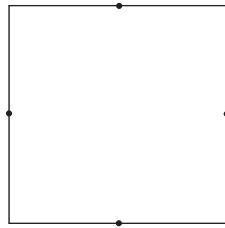
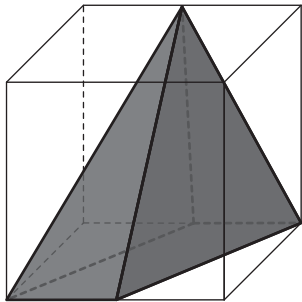
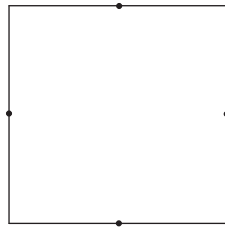
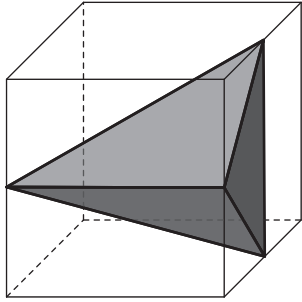


Pyramide et volume



- Les cubes dans lesquels sont construits les 4 pyramides ont pour arête 5 cm.
- Les solides ne sont pas tracés en vraie grandeur.
- Les sommets des pyramides sont des sommets ou des milieux d'arêtes des cubes.

Dessine l'une des bases de chacune des pyramides dans le carré situé à côté. Ensuite calcule l'aire de cette base puis le volume de la pyramide.